

# Je fais le point

Nom \_\_\_\_\_ Prénom \_\_\_\_\_ Date \_\_\_\_/\_\_\_\_/\_\_\_\_

<https://laclasselleve.fr/>

# Les mesures de contenances

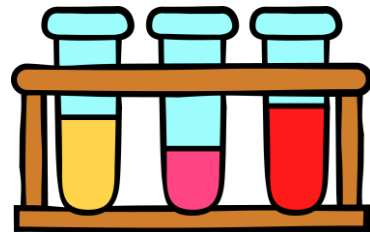
## Exercice n° 1

Colorie les unités selon la légende.

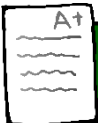
La principale unité de mesure de contenances	ses multiples	ses sous-multiples
ROUGE	BLEU	JAUNE

Gare aux intrus !

hectolitre    kilomètre    décalitre    litre    centilitre    minute    centigramme    gramme    millilitre



Évaluation



Connaître les unités de mesures de contenances.



/ 6







- J'ai rédigé une phrase d'annonce.
- J'ai écrit mon calcul en ligne avant de le poser et de l'effectuer.
- J'ai rédigé une phrase-réponse correctement construite.

# N°2



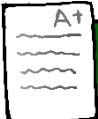
X	X	X	X	X	X	X	X

Pour un mariage, les organisateurs estiment qu'il faut prévoir environ 3 verres de 20 cL par personne. Il y a 150 invités.

**Combien de bouteilles de 1 L faut-il prévoir pour cette réception ?**




- J'ai rédigé une phrase d'annonce.
- J'ai écrit mon calcul en ligne avant de le poser et de l'effectuer.
- J'ai rédigé une phrase-réponse correctement construite.



Résoudre des problèmes impliquant des mesures de contenances.



Évaluation

/ 10	
------	--