

Je fais le point

Nom _____ Prénom _____ Date ____/____/____

<https://laclasselleve.fr/>

Les mesures de durées

Exercice n° 1

Colorie les unités de mesure de durées selon la légende.

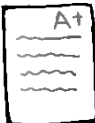
Gare à l'intrus !

le mois	ses multiples	ses sous-multiples
ROUGE	BLEU	JAUNE

jour
 heure
 année
 semaine
 siècle
 gramme
 mois
 trimestre
 semestre
 minute
 millénaire
 seconde



Évaluation



Connaitre les unités de mesures de durées.

/ 11

Exercice n° 2

Relie les durées identiques.



5 min	•	•	420 s
4 jours	•	•	40 min
7 min	•	•	300 s
2 400 s	•	•	480 min
8 h	•	•	96 h

Exercice n° 3

Convertis en heures.


- a) 180 min = _____ h
b) 600 min = _____ h
c) 3 jours = _____ h
d) 1 semaine = _____ h
e) 3 600 s = _____ h
f) 9 jours = _____ h

Exercice n° 4

Convertis en minutes.

- a) 4 h = _____ min
b) 600 s = _____ min
c) $\frac{3}{4}$ h = _____ min
d) 5 h 10 min = _____ min
e) 8 h 36 min = _____ min
f) 180 s = _____ min

Utilise
ton ardoise!



Évaluation

A+

Connaitre les équivalences et convertir les unités de durées.



/ 17

Exercice n° 5

Résous ces problèmes.

N°1




Le film « Alice aux pays des merveilles » dure 1 h 55 min.
Isabelle choisit la séance qui commence à 14 h 15 min.
À quelle heure la séance finira-t-elle ?



- J'ai rédigé une phrase d'annonce.
- J'ai écrit mon calcul en ligne avant de le poser et de l'effectuer.
- J'ai rédigé une phrase-réponse correctement construite.

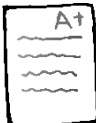
N°2



De Paris, Hicha et ses parents ont pris le train de 9 h 24 min.
Ils sont descendus à 13 h 07 min à la gare de Limoges.
Calcule la durée du trajet.



- J'ai rédigé une phrase d'annonce.
- J'ai écrit mon calcul en ligne avant de le poser et de l'effectuer.
- J'ai rédigé une phrase-réponse correctement construite.



Résoudre des problèmes impliquant des mesures de durées.



Évaluation